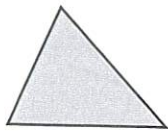

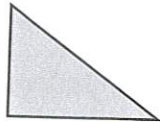


1 Complète les descriptions de chaque figure.




Il a 3 côtés
et 3 sommets.

Cette figure est un triangle.



Il a 3 côtés
et 3 sommets.
Il a 1 angle droit.

Cette figure est un triangle rectangle.



Il a 4 côtés et 4 sommets.

Il a 4 angles droits.

Ses côtés ont tous la même longueur.

Cette figure est un carré.




Il a 4 côtés et 4 sommets.

Il a 4 angles droits.

Ses côtés opposés ont la même longueur.

Cette figure est un rectangle.

2 Colorie les polygones selon le code couleur et écris leur nombre !



jaune triangle rectangle

vert triangle quelconque

rouge carré

bleu rectangle



Il y a 12 triangles rectangles, 8 triangles quelconques, 4 carrés et 6 rectangles.