

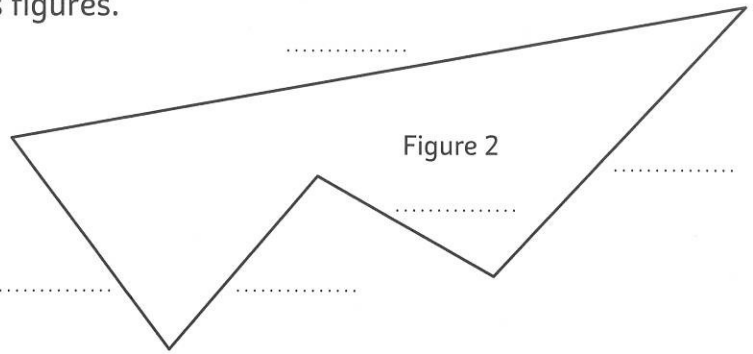
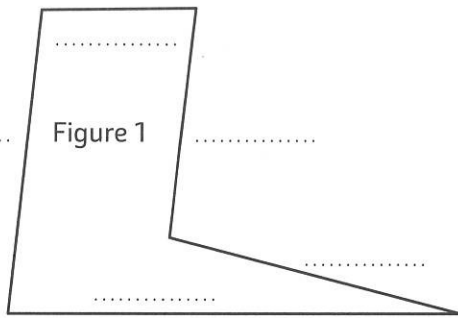
ÉVALUATION 1

Prénom

Date

MESURER ET CALCULER DES PÉRIMÈTRES

1 Mesure et indique le périmètre de ces figures.




P (fig1) =

P (fig2) =

TRACER DES POLYOGNES EN FONCTION DE LEUR PÉRIMÈTRE

2 Construis un polygone, un carré et un rectangle ayant chacun un périmètre de 20 u.



UTILISER DES FORMULES POUR CALCULER DES PÉRIMÈTRES

3 Complète le tableau ci-dessous.

Carré		Rectangle			
côté	périmètre	longueur	largeur	½ périmètre	périmètre
4 cm cm	8 cm	9 cm cm cm
..... cm	48 cm	5 m m	12 m m
3,2 cm cm	7 cm cm cm	20 cm

4 Réponds aux différentes questions.

a. Calcule la longueur du segment a.

b. Calcule la longueur du segment b.

c. Calcule le périmètre de la forme blanche.

